

TAHÁK PRO RODIČE

KROKOVÁNÍ A SCHODY

→ krok dopředu
← krok dozadu

KROKOVÁNÍ

$|\rightarrow|\rightarrow| = | \underline{\quad} |$

Dva stojí vedle sebe. První udělá dva kroky dopředu a jeden krok dopředu. Kolik kroků udělá druhý, aby stáli vedle sebe?

$|\rightarrow|\rightarrow| = |\rightarrow\rightarrow\rightarrow|$

Druhý udělá tři kroky dopředu.

SCHODY

$|3|\rightarrow|\leftarrow|\leftarrow| \underline{\quad}$

Stojím na čísle 3. Udělám jeden krok dopředu a dva kroky dozadu. Na kterém čísle stojím nyní?

$|3|\rightarrow|\leftarrow|\leftarrow|2|$

Stojím na čísle 2.

AUTOBUS

Na první zastávku přijíždí prázdný autobus, na konečné všichni cestující vystoupí.



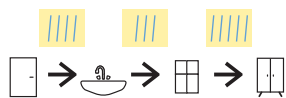
Modrý autobus. Čísla udávají počet cestujících, kteří na první, druhé a třetí zastávce nastoupí.



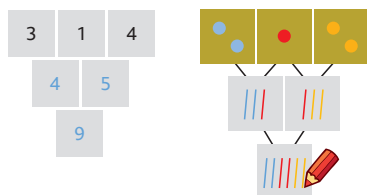
Červený autobus. Čísla udávají počet cestujících, kteří jedou z první zastávky na druhou, ze druhé na třetí a z třetí zastávky na konečnou.

Tabulka o jízdě autobusem:

vystoupili	0			
nastoupili				0



SOUČTOVÉ TROJÚHELNÍKY



STAVBY Z KRYCHLÍ



Plán krychlové stavby:

	modrá	žlutá	zelená
počet krychlí	4	3	4
počet podlaží	3	1	2

NÁSOBILKOVÉ ČTVERCE

Když vynásobím modrá (rohová) čísla, dostanu mezi nimi žluté (středové) číslo.

4		2
3		5

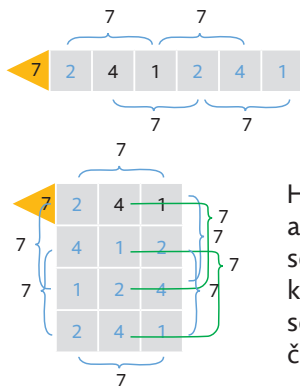
4	8	2
3	15	5

SOUSEDI

Doplň, aby součet každých tří sousedních čísel byl 7.



Řešení:



Hlídám, aby hledaný součet měla každá trojice sousedních čísel.

SOUČTOVÉ TABULKY

	1	2	3
4			
5			
6			

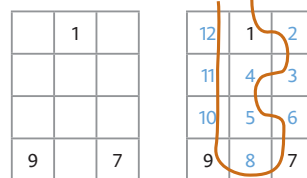
	1	2	3
4	5	6	7
5	6	7	8
6	7	8	9

Řešení:

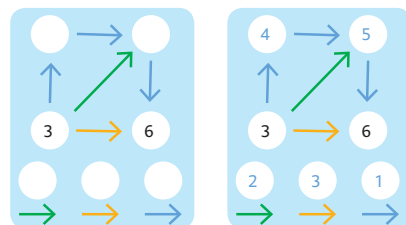
Do okna zapíšeš součet čísla v záhlaví a čísla v levém sloupci.

VÝSTAVIŠTĚ

Procházím výstavištěm a čísluji místnosti. Do žádné místnosti nevstoupím dvakrát, ale navštívím místnosti všechny.



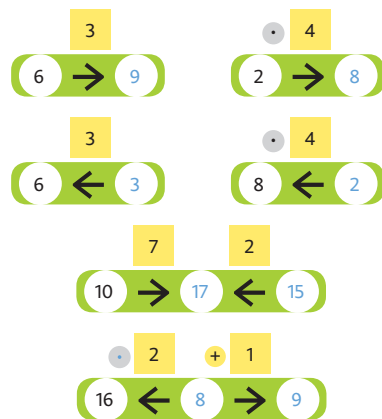
PAVUČINY



Každá barva šipky nese nějakou hodnotu. Pátrám, jakou hodnotu šipka nese a jaká čísla do pavučiny doplním.

HADI

→ přidávám ← ubírám



ZVÍRÁTKA DĚDY LESONĚ

Zvířátka jednoho druhu mají stejnou sílu. Zjišťuji, kdo nebo které družstvo je silnější.

		=	
		=	
		=	
		=	
		=	
		=	