


- 4 Historické vědy rozlišují různé typy pramenů, s jejichž pomocí doplňují dílky do skládačky o naší minulosti. Roztříd' prameny podle typu do tabulky. Zdůvodni svou volbu spolužákům. Pozor! Jeden z nich může být zařazen do všech kategorií.

- kronika fotografie staré noviny amfora vytesaný nápis mumie obraz deník
kamenná sekera lidská kostra nástěnná malba náhrobní kámen ilustrovaná mapa

HMOTNÉ	PÍSEMNÉ	OBRAZOVÉ

- 5 a) Od pravěku se v lidské společnosti udály veliké změny, které budeš postupně objevovat. Je ale důležité uvědomit si, že mnoho věcí se nezměnilo téměř vůbec. Na obrázku je vesnice z doby bronzové a vesnice z počátku 20. století. Kolik rozdílů dokážeš najít? Zakroužkuj je a zdůvodni.
b) Jaké jsou podle tebe největší lidské vynálezy?



- 6 Měření času je staré jako lidstvo samo. K čemu potřebovali lidé v pravěku měřit čas? A proč dnes potřebujeme měřit čas tak přesně? Napiš 3 důvody pro každé období a diskutujte o nich ve třídě.

PRAVĚK	SOUČASNOST



Drsná doba, drsní lidé


- 1 Jak se vyvíjel lidský druh? Očísluj jeho zástupce od nejstaršího k nejmladšímu. Přiřaď k latinskému názvu český a najdi tvrzení, které jednotlivé druhy nejlépe vystihuje.

<input type="checkbox"/>	<i>Homo erectus</i>	neandrtálec	chůze po dvou nohou
<input type="checkbox"/>	<i>Homo sapiens sapiens</i>	australopiték	postupně vymizel
<input type="checkbox"/>	<i>Homo neanderthalensis</i>	člověk zručný	lov velké zvěře
<input type="checkbox"/>	<i>Australopithecus</i>	člověk dnešního typu	specializovaný lov a stavba obydlí
<input type="checkbox"/>	<i>Homo sapiens</i>	člověk vzpřímený	lov menších a pomalejších zvířat
<input type="checkbox"/>	<i>Homo habilis</i>	člověk rozumný	vzpřímená postava

- 2 Do textu se zatoulalo šest nesmyslů. První jsme označili, odhal další, označ je a oprav.


Paleolit (nebo starší doba kamenná) je nejmladším a nejdelším obdobím lidských dějin. Člověk dnešního typu se na našem území objevil přibližně před 40 000 lety. V té době zde panovalo tropické podnebí. Tito lidé se živili například sběrem lesních plodů, rybolovem, ale i lovem drobných i větších zvířat. Mezi ně můžeme zařadit mamuty, brontosauiry či soby. Žili ve stálých vesnicích a v jeskyních se schovávali před nepřízní počasí. Potřebné nástroje vyráběli z kamene, parohů, dřeva, kostí a bronzu. Jídlo připravovali na ohni v keramických nádobách.

3



Ahoj, jmenuji se Njana. Víš, proč nemohli lidé ve starší době kamenné ulovit mamuta do předem vykopané jámy? Napiš své odůvodnění.

Mamuty jsme ale tehdy opravdu lovili – jak jsme to dokázali?

- 4  a) Již nejstarší pravěké malby často znázorňovaly nějaký příběh. Pokus se takovou malbu vytvořit, namaluj na samostatný papír například lov nebo cestu do sousední osady.
b) Vyměň si výkres se spolužákem a napiš podle jeho obrázku krátký příběh.



- 5 V pravěké tlupě museli lidé spolupracovat, aby přežili. Zamysli se, na kterých činnostech se mohli podílet všichni členové tlupy a které dělali jen někteří. Správnou odpověď označ křížkem. Dej si pozor, u některých činností nemusí být jen jedna!

	MUŽI	ŽENY	DĚTI
lov velkých zvířat			
lov ryb, drobných zvířat a sběr lesních plodů, kořínků, semen a vajec			
stavba obydlí			
výroba kamenných nástrojů			
péče o děti, oheň a tábořiště			
sběr dříví, nošení vody			

- 6 a) Doplň správné názvy předmětů ze starší doby kamenné a opiš zvyrazněná písmena do políček u obrázků.
 b) Škrtni písmena u dvou předmětů, které se sem zatoulaly z budoucnosti. Z výsledné tajenky se dozvíš jméno malíře, kterého proslavily kresby pravěkých lidí a zvířat. Zjisti jeho křestní jméno.

K ICKÁ NÁDOBA MICKÁ S K


HA U

P V

V R Š (past na ryby)

NÍ A BA

NÍ L N



tajenka:

- 7 a) Ve světě dodnes žijí někteří lidé lovecko-sběračským způsobem života, tedy jako ve starší době kamenné. Vystopujte je! Pracujte ve skupině, hledejte na internetu a na mapě. Jak se některé z kmenů jmenují?

b) Kdybyste sami žili v době kamenné, jak by se jmenoval váš kmen? A jaký by byl váš totem? Nakreslete ho na samostatný papír.

