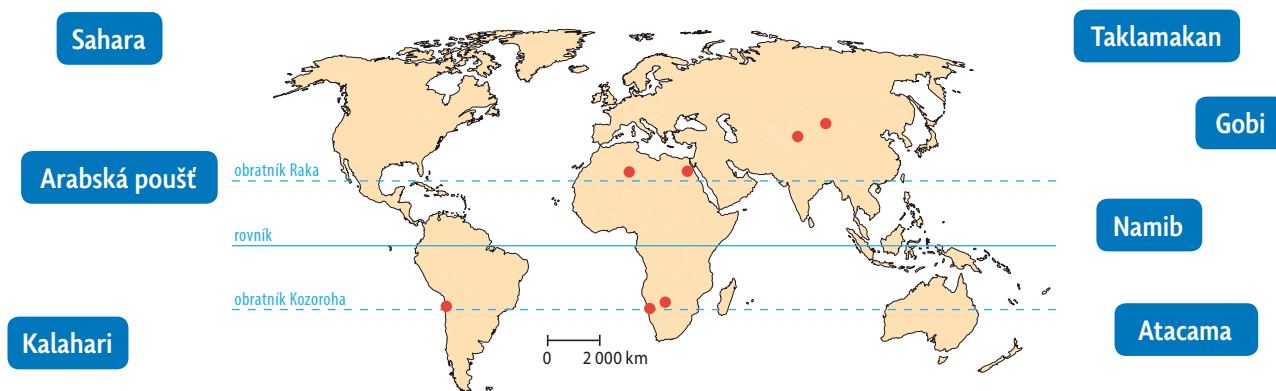


## Pouště a polopouště

- 1 Pracuj s atlasem. V pásu kolem obratníků se nacházejí rozlehlé oblasti s nedostatkem vody – pouště a polopouště. Spoj čarou název pouště a místo, kde se nachází.



- 2 Oprav chybná tvrzení o pouštních oblastech.

V poušti nežijí žádní lidé. \_\_\_\_\_

Místo, kde je v poušti zdroj vody se nazývá oko. \_\_\_\_\_

V poušti je stále vysoká teplota vzduchu. \_\_\_\_\_

Poušť je oblast s častým nedostatkem srážek během roku. \_\_\_\_\_

- 3 Vyvrát chybné tvrzení: **Pouště se nacházejí pouze v tropickém pásu v oblasti kolem rovníku.**

- 4 Rostliny a zvířata horkých pouští jsou přizpůsobeni zdejším podmínkám. Uveď, jak jsou zdejším podmínkám přizpůsobeni živočichové a rostliny na obrázcích.



## Savany

- 1 Prohlédni si klimadiagram znázorňující charakteristický průběh srážek a teplot v savaně. Jak se proměňuje krajina během roku a jak ovlivňuje život zvířat, která zde žijí?

---



---



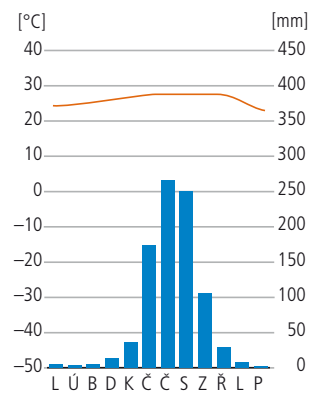
---




---



---



- 2 Vyluštěním tajenky zjistíš název pro pás území v Africe, který tvoří přechod mezi jižní oblastí pouště Sahary a na ni navazující rozlehlé území savan.



turistická prohlídka savany džípem s průvodcem  
 druh hmyzu, který se v savaně často přemnoží a ničí úrodu  
 hlavní problém obyvatel savany v období velkého sucha  
 hmyz savany podobný mravenci, který si staví sloupovitá obydlí  
 živočich savany často zabíjený pytláky

- 3 Přiřaď k obrázkům názvy rostlin a živočichů žijících v savaně. Pod obrázky napiš, na kterém kontinentu se vyskytují.



buvol kaferský

zebra stepní



emu hnědý

lev pustinný



akácie

klokan rudokrký



baobab






žirafa síťovaná



- 4 Kolik z živočichů v úkolu 3 je býložravců a kolik masožravců? Vyjádři poměrem.



## Mapa – obraz Země – závěrečné opakování

- 1 Věda, která se zabývá tvorbou map se nazývá:
  - a) geografie
  - b) kartografie
  - c) geologie
- 2 Podrobnému zobrazení území obce říkáme:
  - a) atlas
  - b) mapa
  - c) plán
- 3 Atlas je:
  - a) soubor map
  - b) mapa světa
  - c) učebnice o vzniku map
- 4 Měřítko na mapě udává:
  - a) nadmořskou výšku území na mapě
  - b) rozměry mapy v centimetrech
  - c) kolikrát je území zmenšené oproti skutečnosti
- 5 Které měřítko bude pravděpodobně mít mapa světa?
  - a) 1: 70 000 000
  - b) 1: 700 000
  - c) 1: 50 000
- 6 Vrstevnice jsou pomyslné čáry na mapě, které:
  - a) vyznačují v krajině nebezpečná místa
  - b) spojují místa o stejné nadmořské výšce
  - c) označují vrstvy kopců podle hornin, které ho tvoří
- 7 Zobrazená mapová značka označuje místo:
 
  - a) rozhledna
  - b) zákaz vstupu do území
  - c) památník
  - d) hraniční přechod
- 8 V mapě udává nadmořskou výšku místa v krajině:
  - a) kóta
  - b) červený bod
  - c) speciální mapová značka
- 9 Který druh mapy využijeme pro zjištění hustoty obyvatelstva v zemích střední Evropy?
  - a) obecně zeměpisnou
  - b) tematickou
  - c) satelitní
- 10 Která z mapových značek informuje o výskytu přírodní zajímavosti:
  - a) 
  - b) 
  - c) 
  - d) 
- 11 Profil trasy zobrazuje:
  - a) objekty na trase
  - b) směr trasy
  - c) stoupání a klesání v terénu na trase
- 12 Orientovaná mapa má horní okraj totožný se směrem:
  - a) na sever
  - b) na jih
  - c) na východ
- 13 Který z mapových portálů využiješ pro zjištění počasí?
  - a) [www.google.cz/maps](http://www.google.cz/maps)
  - b) [www.mapy.cz](http://www.mapy.cz)
  - c) [www.meteopress.cz](http://www.meteopress.cz)
- 14 Zařízení, podle kterého se můžeme řídit při cestách se nazývá:
  - a) ISS
  - b) GPS
  - c) USB

