



1

ČTI.

12345

25134

54321

2

KOLIK VĚCÍ JE VE SKUPINÁCH? KOLIK V KAŽDÉM OKÉNKU?



3

DOPLŇ TEČKY.


1	2	3	4	5
		••		

5	4	3	2	1



1

HLEDEJ A POČÍTEJ, KOLIK JE VĚCÍ.
OKÉNKO S ČÍSLEM VYBARVI.



1	2	3	4	5
---	---	---	---	---



1	2	3	4	5
---	---	---	---	---



1	2	3	4	5
---	---	---	---	---




1	2	3	4	5
---	---	---	---	---



1	2	3	4	5
---	---	---	---	---



1	2	3	4	5
---	---	---	---	---



1	2	3	4	5
---	---	---	---	---



1	2	3	4	5
---	---	---	---	---

2

NAKRESLI.

STEJNĚ KRUHŮ

VÍC ČÁREK

MÉNĚ TEČEK

VÍCE TEČEK

6

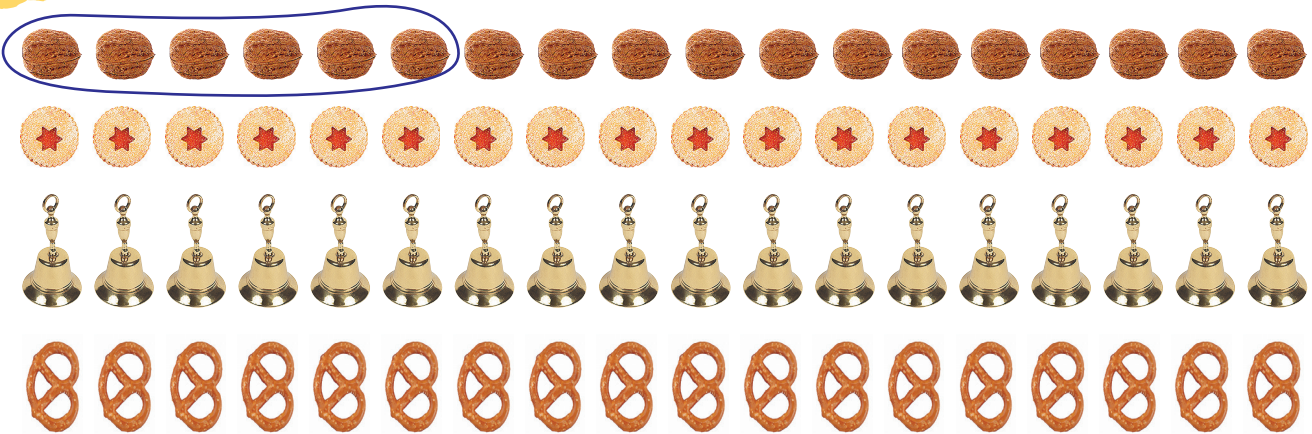
- 2 + 2
- 4 + 1
- 5 - 3
- 4 - 2
- 3 - 1
- 1 + 4
- 5 - 4
- 3 - 3
- 0 + 2
- 2 - 0
- 4 + 1
- 5 - 5



1 PŘEČTI ŘADU ČÍSEL TAM I ZPĚT. UKAZUJ ČÍSLA PODLE DIKTÁTU.

1	2	3	4	5	6
---	---	---	---	---	---

2 SVAŽ SKUPINY PO ŠESTI.



3 DOPLŇ TAKOVÁ ČÍSLA, ABY VÝSLEDEK BYL PRAVDIVÝ.

<input type="text"/> > <input type="text"/>	<input type="text"/> < <input type="text"/>	<input type="text"/> = <input type="text"/>	<input type="text"/> > <input type="text"/>	<input type="text"/> < <input type="text"/>
---	---	---	---	---

4 DOPLŇ >, <, =.

3 ○ 6	5 ○ 5	6 ○ 4	2 ○ 6	3 ○ 3	1 ○ 2
4 ○ 2	3 ○ 6	1 ○ 5	5 ○ 4	5 ○ 6	4 ○ 4






6

6
4 5 6

1

KOLIK?

	— —
	— —
	— —

2

POROVNEJ ČÍSLA.

6		5	3		5
5		6	5		6
4		6	4		3
0		6	0		2
6		6	6		1

3

DOPLŇ ČÍSLA.

2		4		
0	1			
	3			6

3

6	5			
	5	4		2
	3	4		

4

NAJDI VŠECHNA ŘEŠENÍ A ZAKROUŽKUJ JE BAREVNĚ.

- $2 < ?$ 0, 1, 2, 3, 4, 5, 6 $6 > ?$ 0, 1, 2, 3, 4, 5, 6
 $5 > ?$ 0, 1, 2, 3, 4, 5, 6 $4 > ?$ 0, 1, 2, 3, 4, 5, 6
 $3 > ?$ 0, 1, 2, 3, 4, 5, 6 $0 < ?$ 0, 1, 2, 3, 4, 5, 6



OBDÉLNÍK

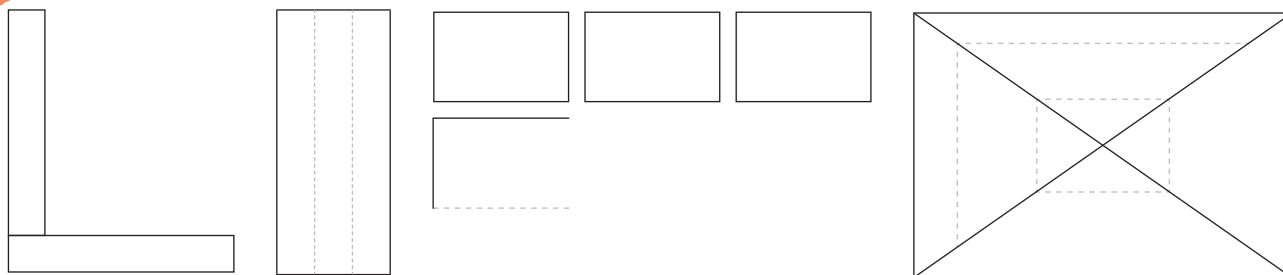


1

ČÍM SE LIŠÍ OBDÉLNÍK OD ČTVERCE?

2

HRAJEME SI.



3

DOPLŇ OBDÉLNÍKY, ABY BYL SOUČET V ŘÁDCÍCH I SLOUPCÍCH 7.

1	2	4
4		
2		2

0	2	5
4		1

6		
1		
0		



4

NASTŘÍHEJ Z PAPIRU RŮZNĚ VELKÉ OBDÉLNÍKY.

5

SKLÁDEJ RŮZNÉ SKUPINY ZE 6 OBDÉLNÍKŮ.

6

SESTAV Z NASTŘÍHANÝCH OBDÉLNÍKŮ OBRÁZEK.

7

CO MÁ TVAR OBDÉLNÍKU VE VAŠÍ TŘÍDĚ?



1

SPRÁVNÉ ŘEŠENÍ DEJ DO RÁMEČKU. NESPRÁVNÉ ŠKRTNI.

A Eva má doma 5 knih. Včera dostala 2 nové knihy.

$5 - 2 = 3$

$5 + 2 = 7$

$5 + 2 = 3$

Eva má nyní _____ knih.

B Na míse je  a .

$5 + 1 = 6$

$1 + 5 = 6$

$5 - 1 = 4$

Na míse je _____ kusů cukroví.

C Máme . Romanovi dáme 2.

$5 + 2 = 7$

$7 - 2 = 5$

$5 + 1 = 6$

Zůstalo nám _____ ořechů.

$3 + 3$

$7 - 4$

$7 - 1$

$1 + 6$

$6 + 0$

$5 - 1$

$7 - 4$

$2 + 5$

$4 + 3$

$6 - 0$

2

KTERÉ PŘÍKLADY PATŘÍ KE ZNÁZORNĚNÍ NA DOMINOVÝCH KOSTKÁCH? VYPOČÍTEJ A VÝSLEDEK ZAPIŠ BARVOU KOSTKY.

$2 + 5 = \underline{\quad}$

$7 - 6 = \underline{\quad}$

$4 + 3 = \underline{\quad}$




$4 - 3 = \underline{\quad}$

$7 - 2 = \underline{\quad}$

$7 - 1 = \underline{\quad}$

$7 - 0 = \underline{\quad}$

$3 + 4 = \underline{\quad}$



$5 + 2 = \underline{\quad}$

$1 + 6 = \underline{\quad}$

$7 - 3 = \underline{\quad}$

$6 - 5 = \underline{\quad}$

$2 + 4 = \underline{\quad}$

$7 - 5 = \underline{\quad}$

$6 - 1 = \underline{\quad}$

$6 - 4 = \underline{\quad}$

3

ZNÁZORNĚNÉ ODCÍTÁNÍ ZAPIŠ.



CO UŽ UMÍM

1 DOPLŇ ŘADY ČÍSEL.

0 _ 2 _ _ 5 _ _
_ 6 _ _ _ 2 _ _

7 _ _ 4 _ _
_ 6 _ _ _ 2

2 PIŠ JEN VÝSLEDKY DIKTÁTU.

3 DOPLŇ.

$$5 - \underline{\quad} = 4 \quad 4 + \underline{\quad} = 4$$
$$4 - \underline{\quad} = 3 \quad 3 - \underline{\quad} = 3$$
$$1 - \underline{\quad} = 0 \quad 6 - \underline{\quad} = 6$$

4 PŘÍKLADY OPIŠ A VYPOČÍTEJ.

$6 - 2$

$3 + 3$

$7 - 5$

$3 + 4$

$7 - 1$

$1 + 6$

$2 + 5$

$5 - 4$

5 DOPLŇ SPRÁVNÁ ZNAMÉNKA.

$5 \bigcirc 5 = 0$

$2 \bigcirc 4 = 6$

$6 \bigcirc 3 = 3$

$2 \bigcirc 1 = 1$

$7 \bigcirc 5 = 2$

$5 \bigcirc 1 = 6$

$4 \bigcirc 2 = 2$

$3 \bigcirc 3 = 0$

6 VYŘEŠ SLOVNÍ ÚLOHU.

Měli jsme 7 skleniček. Iva jednu rozbila.

Kolik jich nyní máme?

Máme _____ skleniček.

HODNOCENÍ ŽÁKA:

