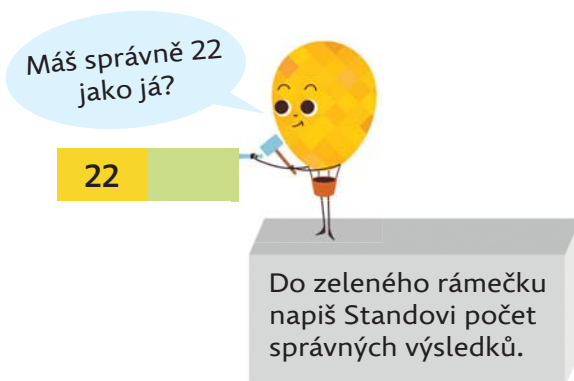


OBSAH

MALÉ OPAKOVÁNÍ	4
PAMĚTNÉ SČÍTÁNÍ DO 1 000	5
PAMĚTNÉ SČÍTÁNÍ TROJCIFERNÝCH ČÍSEL	7
PAMĚTNÉ ODČÍTÁNÍ DO 1 000	11
PAMĚTNÉ ODČÍTÁNÍ TROJCIFERNÝCH ČÍSEL	13
VYPOČÍTEJ ZPAMĚTI	17
PROCVIČOVÁNÍ SČÍTÁNÍ A ODČÍTÁNÍ	18
ZAOKROUHLOVÁNÍ	24
ZLOMKY	28
KLÍČ KE CVIČENÍM	36



Procvičování sčítání a odčítání

3 Vypočítej a sestav z písmen název sportovní disciplíny.
Vybírej písmena u stejných výsledků.

$$660 - 170 = \quad \mathbf{A}$$

$$1000 - 510 = \quad \mathbf{K}$$

$$970 - 480 = \quad \mathbf{B}$$

$$740 - 250 = \quad \mathbf{L}$$

$$830 - 340 = \quad \mathbf{E}$$

$$500 - 240 = \quad \mathbf{L}$$

$$510 - 370 = \quad \mathbf{U}$$

$$260 + 230 = \quad \mathbf{S}$$

$$620 - 130 = \quad \mathbf{T}$$

$$900 - 410 = \quad \mathbf{A}$$

$$640 - 150 = \quad \mathbf{B}$$



Tajenka: _____

4 Spoj obrázky se stejnými výsledky.



Zaokrouhlování

3 Spoj čarou číslo s číslem zaokrouhleným na desítky.

31 428

3 508

3 502

3 510

890 735

31 421

890 734

890 740

3 500

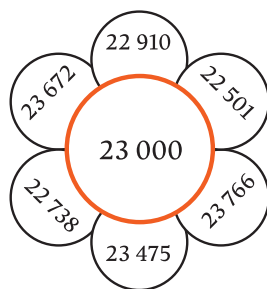
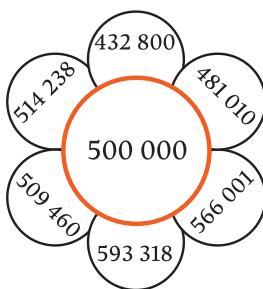
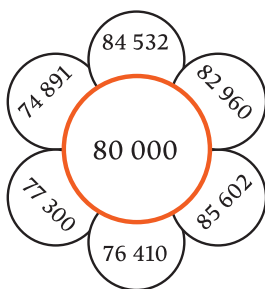
31 430

31 420

890 730



4 Vybarvi stejnou barvou pole s čísly, která můžeš zaokrouhlit na číslo uprostřed.

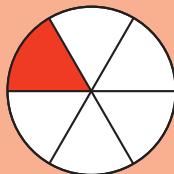


Zlomky

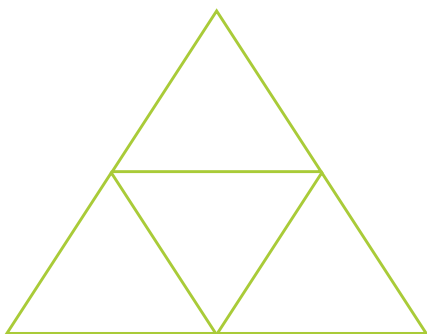
ZLOMEK

čítatel → **1** ← Do čitatele zapišu číslo **1**.
zlomková čára → **—**
jmenovatel → **6** ← Do jmenovatele zapišu počet částí,
na které je rozdělen celek.

Čteme: **jedna šestina**



1 Vybarvi $\frac{1}{2}$ velkého trojúhelníku.



2 Zapiš vyznačené části dvěma různými zlomky.

