





9 Doplň tabulky. Nezapomeň na hodiny bez ručiček nebo číslic.

3 hodiny odpoledne	15 hodin
_____ hodin večer	19 hodin
10 hodin v noci	_____ hodin
4 hodiny odpoledne	

Před polednem		Po poledni
7.15		19.15
		22.30
		13.45

10 Doplň časové údaje podle jízdního řádu.

Je 14.45 hodin a Kája je na zastávce v Mlýnech. Nejbližší autobus do Lhoty mu jede v _____ hodin.

Je čtvrt na 11 dopoledne a Jana je na zastávce v Mlýnech. Nejbližší autobus do Lhoty jí pojede v _____ hodin. Ve Lhotě bude v _____ hodin.

Poslední autobus do Lhoty z Mlýnů odjíždí v _____ hodin a ve Lhotě je v _____ hodin.

Když má být paní Černá ve Lhotě v 7 hodin ráno, musí vyjet z Mlýnů v _____ hodin.

Jízdní řád	
Mlýny odjezd	Lhota příjezd
5.50	7.00
7.05	8.15
10.30	11.35
13.30	14.40
15.05	16.15
18.30	19.35
22.30	23.05

11 Napiš data vždy druhým způsobem.

3. 2.	3. února
4. 1.	
15. 4.	
	15. června
	11. dubna
	18. ledna
7. 3.	

12 Napiš, který měsíc předchází a který následuje.

_____ březen _____ červen _____

_____ září _____ prosinec _____

13 Zakroužkuj hnědě obrázky patřící k podzimu, modře – k zimě, zeleně – k jaru, červeně – k létu. Obrázek může patřit k více obdobím.

