


1


Obtahuj ukazováčkem části obrázků, které tvoří lomené čáry. Rozhodni: Je lomená čára křivá čára nebo rovná čára?

(Rovná čára.)




2

Překresli čáry do geometrického sešitu. Stránku si rozděl svislým přeložením na dvě poloviny. Do jedné poloviny kreslí rovné čáry, do druhé křivé. Písmenem **O** označ otevřenou čáru, písmenem **U** uzavřenou čáru.



Bod

Střelec střílí do terče.
Pročpak tolik strachu?
Malá dírka po kulce
- toť bod, milý brachu!



Bod v rovině vyznačujeme rovným (+) nebo šikmým (x) křížkem.

Body označujeme (popisujeme) velkými tiskacími písmeny bez háčků a čárek.

1

Házej malým úlomkem křídý na tabuli. Místo, kde se křída dotkne tabule, vyznač křížkem a popiš písmenem.

2

Hledej a ukazuj ve třídě body, kde se stýkají dvě rovné čáry. Pro body vymyšlej označení.

3

Trénuj vyznačování a popisování bodů v rovině.

Na rovné čáře vyznačujeme bod vždy jen krátkou a kolmou čárkou.

A

SPRÁVNĚ

B

A

ŠPATNĚ

B

4

Narýsuj pět rovných čar různých směrů. Vyznač na nich body. Každý bod popiš.