

13

Rozlož na desítky a jednotky. K jednotkám vyhledej písmeno v tabulce a napiš ho na linku. Pak slovo přečti.

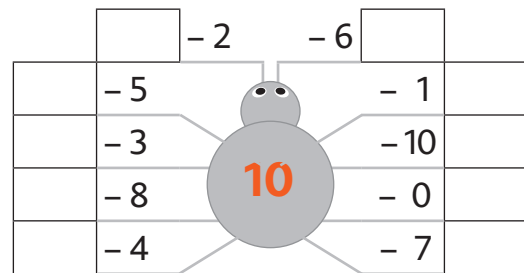
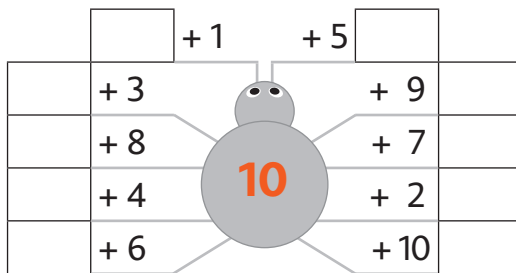
104 H \_\_\_\_\_

1	2	3	4	5	6	7	8	9
K	P	E	H	O	N	U	V	R

Daník si připravil různé hry. Hrajte si také a počítejte.

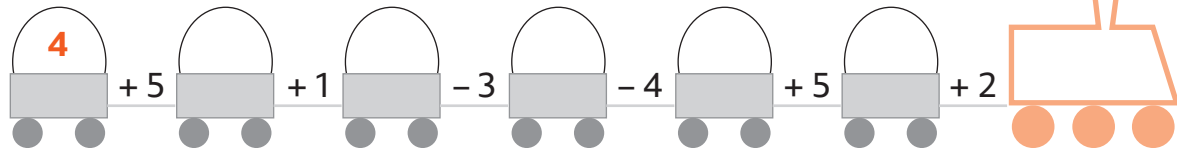
14

Doplň pavoučí síť.



15

Zkus vypočítat konečný výsledek.



16

Kolik korun měla babička v peněžence, když dala Janě šest korun a ještě 13 korun jí zbylo? Dokresli obrázek podle zadání.



dala \_\_\_\_\_

zbylo \_\_\_\_\_

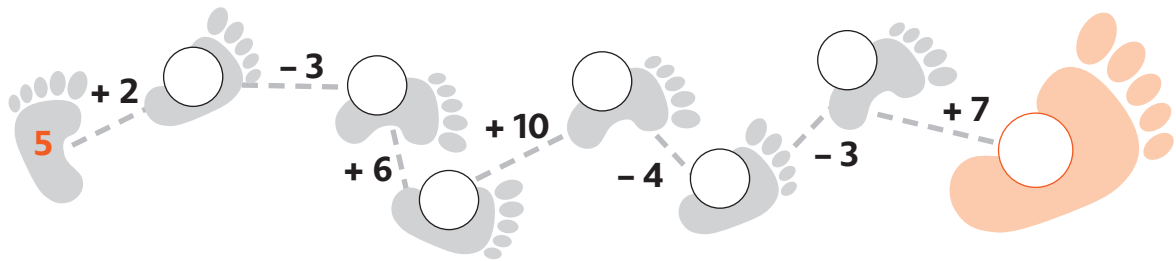
měla \_\_\_\_\_ zk. \_\_\_\_\_

Odpověď: \_\_\_\_\_

**17** Dopln chybějící číslice.

$11 + 1 = \underline{\quad} \underline{\quad}$	$12 + 6 = \underline{\quad} \underline{\quad}$	$13 + 4 = \underline{\quad} \underline{\quad}$
$\text{✿ } 13 - 2 = \underline{\quad} \underline{\quad}$	$18 - 5 = \underline{\quad} \underline{\quad}$	$19 - 6 = \underline{\quad} \underline{\quad}$
$15 + 2 = \underline{\quad} \underline{\quad}$	$16 - 4 = \underline{\quad} \underline{\quad}$	$15 + 4 = \underline{\quad} \underline{\quad}$
$\text{✱ } 16 - 5 = \underline{\quad} \underline{\quad}$	$17 + 2 = \underline{\quad} \underline{\quad}$	$13 + 1 = \underline{\quad} \underline{\quad}$
$16 + 2 = \underline{\quad} \underline{\quad}$	$18 - 2 = \underline{\quad} \underline{\quad}$	$20 - 8 = \underline{\quad} \underline{\quad}$
$14 - 4 = \underline{\quad} \underline{\quad}$	$20 - 5 = \underline{\quad} \underline{\quad}$	$19 - 7 = \underline{\quad} \underline{\quad}$

**18** Kterými čísly jsou označeny stopy, která tě dovedou do cíle?



**19** Dopln správně znaménka  $>$ ,  $<$ ,  $=$

$16 + 2 \bigcirc 17$	$13 + 4 \bigcirc 17$	$20 - 4 \bigcirc 17$	$10 + 6 \bigcirc 15$
$14 - 3 \bigcirc 10$	$11 + 5 \bigcirc 16$	$17 - 6 \bigcirc 10$	$18 + 2 \bigcirc 14$
$15 + 1 \bigcirc 20$	$12 - 2 \bigcirc 15$	$14 + 5 \bigcirc 20$	$17 - 3 \bigcirc 14$

**20** Vypočítej. Pokud správně vyřešíš, vybarvi kytičku.

