

5 Našemu fotografovi se během cesty kolem světa pomíchaly přivezené snímky. Umísti je pomocí čísel na mapu v úkolu 1 přibližně do míst, kde mohly být pořízeny.



1. pižmoň



2. tučňák



3. žralok



4. zebra



5. smrk



6. banánovník



7. pšenice



8. rýže



9. step



10. atol



11. poušť



12. tropický les



13. Středomoří




14. Himálaj



15. černocho



16. Židé



17. Praha



18. New York



19. Tokio

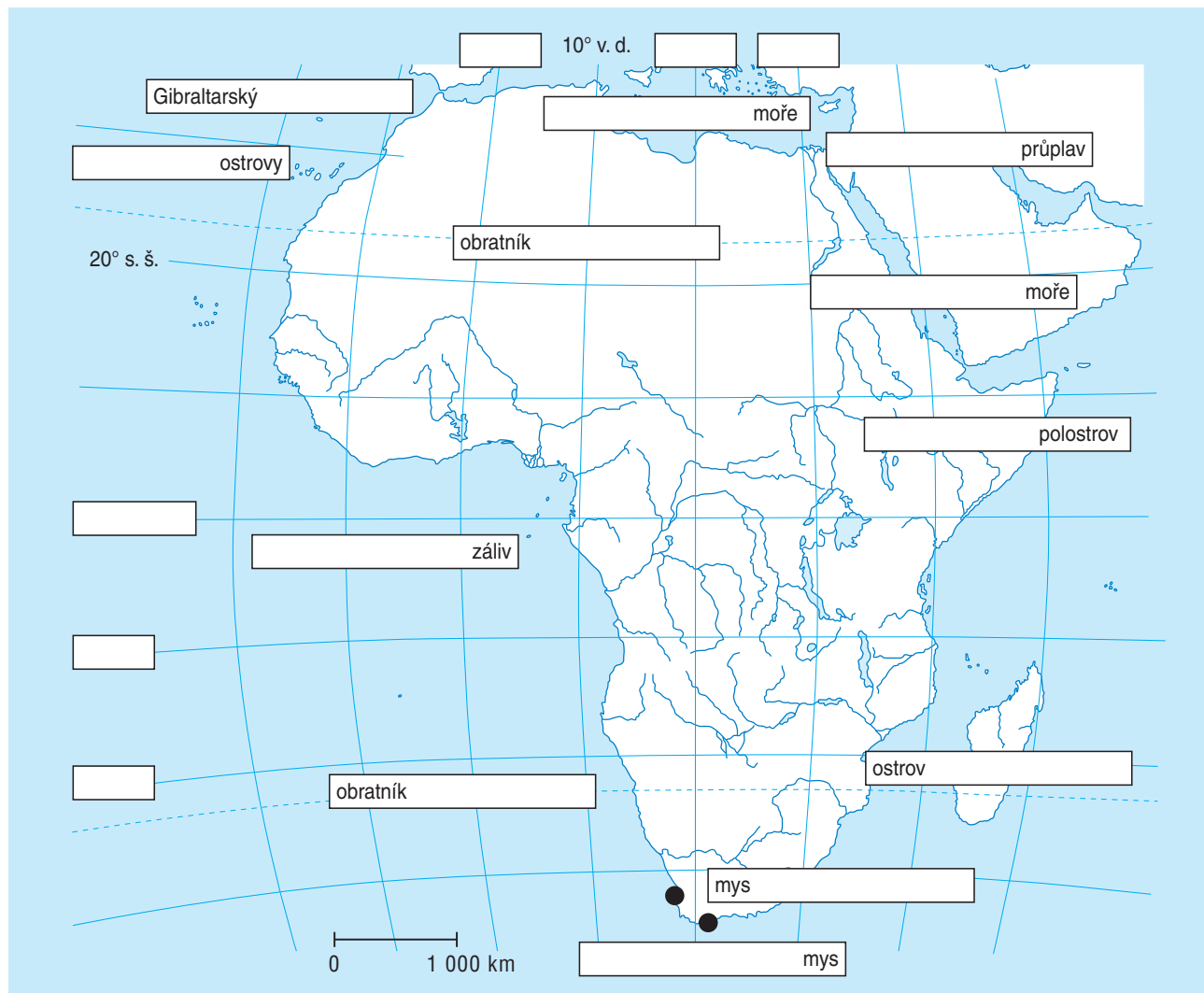


20. Sydney



# Africký kontinent

1 Doplň do mapy chybějící údaje.



2 Vytvoř barevnou legendu. Vybarvi v mapě v úkolu 1 významná pohoří a pouště, označ je názvy. Pracuj s atlasem.

3 Vylušti názvy míst na obrázku. Poté je pomocí čísel umístí do mapy v úkolu 1.



1

DŽOKIMALINÁR



2

ORVITIINKY  
VOPÁDODY

3

ZUSEKÝS LAVŮPPR



4

ČÍDRA ROHY



## Vodstvo Ameriky

1 Spoj řeku s místem jejího ústí.

Mississippi

Amazonka

Yukon

Mackenzie

Colorado

Kalifornský záliv

Beringovo moře

Atlantský oceán

Mexický záliv

Beaufortovo moře

2 Rozhodni, zda je tvrzení pravdivé, či ne.

A N

Grand Canyon vytvořila řeka Colorado.

Niagarské vodopády leží na řece Orinoko.

Řeka Paraná se na dolním toku jmenuje La Plata.

Nejvyšší vodopád světa je Niagarský.

V řece Yukon se kdysi nacházelo zlato.

Největší z Velkých jezer je Michiganské.

Hranici mezi Mexikem a USA tvoří řeka Rio Grande.

Amazonka je nejvodnatější řeka světa.

Jezero Titicaca leží 3 000 m nad mořem.

Řeka Yellowstone se vlévá do Mississippi.

3 Přiřaď názvy k obrázkům.

Salto Angel

Salt Lake

Niagarské vodopády

jezero Titicaca



4 Na hranici mezi USA a Kanadou leží soustava jezer, tzv. Velká jezera. Zapiš do mapky jejich názvy a doplň text.

Mezi jezery \_\_\_\_\_

a \_\_\_\_\_ se nacházejí Niagarské vodopády. Největším jezerem je jezero \_\_\_\_\_.

Nejmělkčím jezerem je jezero \_\_\_\_\_.

Vodu z jezer do Atlantského oceánu odvádí řeka \_\_\_\_\_.





## Přírodní poměry Austrálie

1 Zaškrtni druhy, které nejsou v Austrálii původní.

- |                                   |                                       |                                     |                                   |                                   |                                 |
|-----------------------------------|---------------------------------------|-------------------------------------|-----------------------------------|-----------------------------------|---------------------------------|
| <input type="checkbox"/> lenochod | <input type="checkbox"/> klokan       | <input type="checkbox"/> pes dingo  | <input type="checkbox"/> tygr     | <input type="checkbox"/> lama     | <input type="checkbox"/> kakadu |
| <input type="checkbox"/> králík   | <input type="checkbox"/> panda velká  | <input type="checkbox"/> eukalyptus | <input type="checkbox"/> kukuřice | <input type="checkbox"/> anakonda |                                 |
| <input type="checkbox"/> koala    | <input type="checkbox"/> medvěd lední | <input type="checkbox"/> ptakopysk  | <input type="checkbox"/> srna     |                                   |                                 |

2 Uveď názvy typických australských živočichů, kteří žijí ve volné přírodě pouze zde.



\_\_\_\_\_

3 Každý ekosystém má svoje pravidla. Když do něj člověk zasáhne, může způsobit katastrofu. Někteří lidé do Austrálie dovezená zvířata ohrožují existenci těch původních. Vyber jedno takové zvíře a popiš, jak zasahuje do zdejšího ekosystému.

\_\_\_\_\_

\_\_\_\_\_

\_\_\_\_\_

4 Rozhodni, zda je tvrzení o Austrálii pravdivé, či ne. Oprav chybná tvrzení.

Tasmánský čert žije i na Novém Zélandu.

A N

<input type="checkbox"/>	<input type="checkbox"/>
--------------------------	--------------------------

Vombat je vačnatec.

<input type="checkbox"/>	<input type="checkbox"/>
--------------------------	--------------------------

Ptakopysk je savec, který snáší vejce.

<input type="checkbox"/>	<input type="checkbox"/>
--------------------------	--------------------------

Na Novém Zélandu nežijí hadi.


<input type="checkbox"/>	<input type="checkbox"/>
--------------------------	--------------------------

Český název eukalyptu je blahovičnick.

<input type="checkbox"/>	<input type="checkbox"/>
--------------------------	--------------------------

Nestor kea je domorodý náčelník.

<input type="checkbox"/>	<input type="checkbox"/>
--------------------------	--------------------------

5  Austrálie má jedny z nejpřísnějších zákonů na dovoz a vývoz rostlin a živočichů. Jak je možné, že některé druhy australských zvířat lze u nás koupit?

\_\_\_\_\_



# Hospodářství Asie

1 Najdi na svém oblečení a věcech, které denně používáš, údaj o zemi původu. Proč je hodně těchto výrobků z Asie? Vysvětli, proč do Asie přesouvají výrobu i drahé světové značky z Evropy či Ameriky.

---



---

2 Rozděľ státy do skupin podle těžených surovin a výroby. Pracuj s atlasem.

Těžba ropy	Těžba černého uhlí	Těžba železné rudy
Vývoz aut a elektroniky	Vývoz rýže a potravin	Vývoz textilu a obuvi

3 Kterým firmám patří následující loga, ve kterém státě mají své hlavní sídlo a co vyrábějí?

  
TOYOTA

  
HYUNDAI

  
HUAWEI

  
LG

  
SAMSUNG

---



---



---

4 Přiřaď k obrázku stát, ve kterém byl pořízen.



## Východní Asie

1 Na obrázku je jedna z největších staveb světa. Zjisti o ní následující informace.

název \_\_\_\_\_  
 místo \_\_\_\_\_  
 délka \_\_\_\_\_  
 stáří \_\_\_\_\_  
 účel \_\_\_\_\_



2 Ve kterých státech Asie byly pořízeny tyto fotografie?



\_\_\_\_\_

3 Kde je Tibet? Je to samostatné území? Co se tam aktuálně děje?

\_\_\_\_\_  
 \_\_\_\_\_

4 Pokus se určit, o která písma se jedná. (Nápověda: arabské, čínské, japonské, indické)

रेस्टोरेंट      餐厅      レストラン      معظم

\_\_\_\_\_

5 Rozděl města do správných států.

Guangzhou

Pusan

Ósaka

Lhasa


Jokohama

Jinan

Tokio

Soul

Čína	Japonsko	Jižní Korea

6  Kdy došlo k poslednímu rozdělení Korejského poloostrova a kudy hranice prochází? Jak funguje tato hranice?

\_\_\_\_\_  
 \_\_\_\_\_

